

HDHS #4: La Hora

■ **¿Qué hora es?** Follow these rules to tell the time in Spanish.

1:00

Es la una.
(hours are feminine)

en punto

o'clock

cuarto

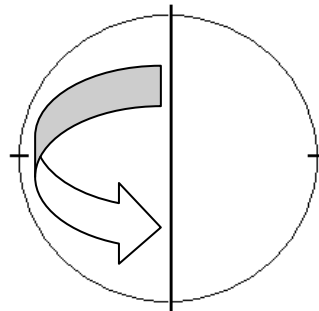
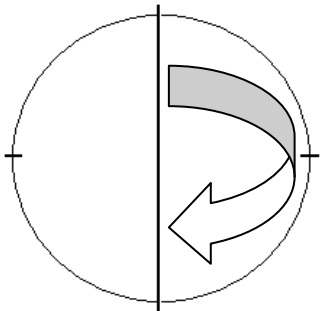
quarter (15)

2:00-12:00

Son las ...

media

half (30)



■ **If minutes are from 1-30**

Es la una y (minutes).
Son las (hour) y (minutes).
(give the hour and minutes)


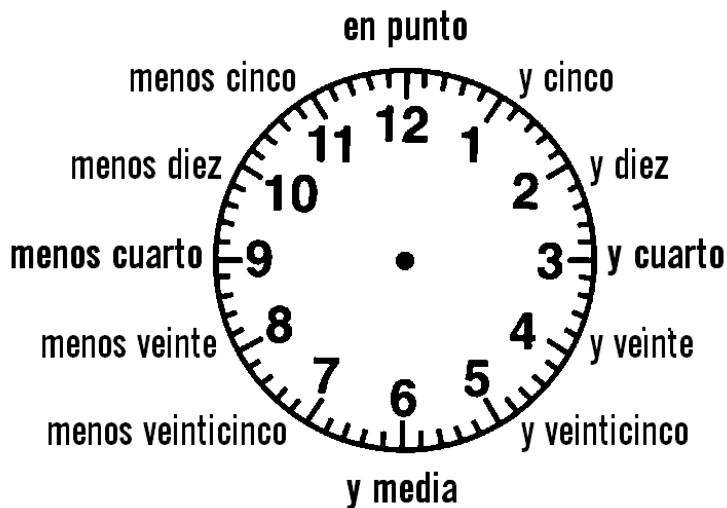
8:10 Son las **OCHO** y **DIEZ**

■ **If minutes are from 31-59**

Es la una menos (minutes).
Son las (hour) menos (minutes).
(you must add an hour to say how many minutes until the next hour)

8:50 Son las **NUEVE** menos **DIEZ**
9 - 10 = ten minus (until) nine

■ **It may seem a bit confusing, but this diagram might help!**



de la mañana



de la tarde



de la noche

A. Escribe la hora en números.

- | | | | |
|-------------------------------|-------|--------------------------------|-------|
| 1. Es la una. | _____ | 9. Son las once y diecinueve. | _____ |
| 2. Es la una y dos. | _____ | 10. Es la una y media. | _____ |
| 3. Son las dos. | _____ | 11. Son las tres menos cuarto. | _____ |
| 4. Son las tres y trece. | _____ | 12. Son las cuatro y media. | _____ |
| 5. Son las doce menos veinte. | _____ | 13. Es la una y cuarto. | _____ |
| 6. Son las seis y cinco. | _____ | 14. Es la una menos diez. | _____ |
| 7. Son las ocho menos siete. | _____ | 15. Son las cinco menos cinco. | _____ |
| 8. Son las siete y diez. | _____ | 16. Es la una menos uno. | _____ |

B. Escribe la hora en palabras.

- | | |
|-----------|-------|
| 1. 9:00 | _____ |
| 2. 2:15 | _____ |
| 3. 8:10 | _____ |
| 4. 4:40 | _____ |
| 5. 12:03 | _____ |
| 6. 11:50 | _____ |
| 7. 1:19 | _____ |
| 8. 10:38 | _____ |
| 9. 7:30 | _____ |
| 10. 5:55 | _____ |
| 11. 3:12 | _____ |
| 12. 6:45 | _____ |
| 13. 4:20 | _____ |
| 14. 11:11 | _____ |
| 15. 10:01 | _____ |
| 16. 5:30 | _____ |
| 17. 6:29 | _____ |
| 18. 1:42 | _____ |